

به نام حق **آزمون ورودی ریاضی** پایه : سوم کلاس : سوم دبستان : شاهدبوعلی

نام و نام خانوادگی : معلم مربوطه: محمد حسین نامی زاده مورخه ۱۲ / ۰۷ / ۱۴۰۰

۱- نوشتن عدد را ادامه بده .

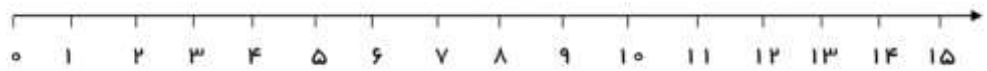
سی صدو یک - سی صدو دو - - ۸۰ - - - ۴۰ - - ۲۰ - ۱۰ - سی صدو هشت

۲- با رقم های ۳، ۹، ۸ تا می توانید عددهای سه رقمی بنویس .

..... ، ، ،

۳- با استفاده از محور اعداد حاصل عبارت را پیدا کن.

$9 + 6 - 4$



۴- الگوی عددی را با پیدا کردن الگوی آن ادامه بده.

۴ ، ۶ ، ۸ ، ، ، ، ، ،

۵- حاصل جمع ها و تفریق های زیر را به دست بیاور .

$7 + 30 + 2 + 100 =$ $12 - 4 =$ $70 - 20 =$ $500 + 300 =$

۶- جاهای خالی را کامل کن .

..... دسته ده تایی به اضافه دسته ده تایی می شود ده تایی . یعنی $50 + 30 =$

۷- نام این شکل ها را همراه با تعداد ضلع های شان بنویس .



..... ضلع

..... ضلع

..... ضلع

..... ضلع

۸- برای هر شکل یک خط تقارن بکش .



۹- ارزش سکه های هر قسمت را بنویس .



۱۰- به سوالات زیر پاسخ بده .



ساعت چند است ؟

۳۰ دقیقه بعد از ساعت ۷:۰۰ چند است ؟

۲۰ دقیقه بعد از ساعت ۶:۱۵ چند است ؟

یکان	دهگان	صدهگان

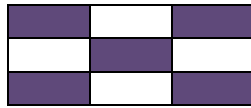
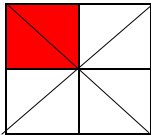
۱۱- ۴ دسته صدتایی ۳ دسته ده تایی و ۸ یکی می شود .

به عدد : به حروف :

۱۲- اندازه خط زیر را با خط کش بگیرید و بنویس.

اندازه ی خط سانتی متر و میلی متر است .

۱۳- برای شکل های زیر جملات را کامل کند.



..... از قسمت مساوی رنگ شده است. از قسمت مساوی رنگ شده است.

۱۴- جواب جمع و تفریق ها را به سه روش مختلف به دست بیاور.

$\begin{array}{r} 362 \\ + 125 \\ \hline + \\ \hline + \\ \hline \end{array}$	<p>فرایندی (از سمت صدگان)</p>	$\begin{array}{r} 734 \\ - 216 \\ \hline \dots\dots\dots \end{array}$	<p>تکنیکی (با انتقال)</p>	$\begin{array}{r} 87 \rightarrow \dots\dots\dots \\ + 43 \rightarrow + \dots\dots\dots \\ \hline \dots\dots\dots \end{array}$	<p>تقریبی</p>
---	-----------------------------------	---	-------------------------------	---	---------------

۱۵- با اعداد مناسب کامل کن .



..... دسته تایی می شود

۱۶- علامت $<$ $=$ $>$ بگذاری.

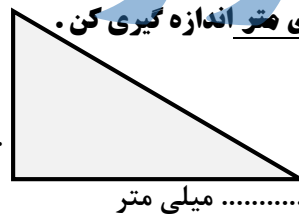
$98 \bigcirc 76$ $379 \bigcirc 793$
 $400 - 100 = \dots\dots\dots$ $200 + 200 = \dots\dots\dots$

..... سانتی متر



..... سانتی متر

۱۷- با میلی مترو سانتی متر اندازه گیری کن .




..... میلی متر

..... میلی متر

..... میلی متر

۱۸- تعداد گل های باغچه ی ماهان به صورت جدول زیر است، این اطلاعات را با نمودار ستونی نشان بده .



هر گل را با شکل رسم کنید

۸	محمدی
۵	یاس
۳	نرگس
۶	رز
۲	بنفشه

گل های شاداب من موفق باشید .

بازخورد معلم :